





Name: \_\_\_\_\_

Date: \_\_\_\_\_

# Learning the TouchPoints

## Worksheet 23

**DIRECTIONS:** TouchCount the coins. Write the amount in the blank below each coin as you TouchCount. Write the total in the last blank.

<p><b>1</b></p>  <p>_____ ¢    _____ ¢    _____ ¢    _____ ¢    _____ ¢</p>	<p>_____ ¢</p>
<p><b>2</b></p>  <p>_____ ¢    _____ ¢    _____ ¢    _____ ¢    _____ ¢</p>	<p>_____ ¢</p>
<p><b>3</b></p>  <p>_____ ¢    _____ ¢    _____ ¢    _____ ¢    _____ ¢</p>	<p>_____ ¢</p>
<p><b>4</b></p>  <p>_____ ¢    _____ ¢    _____ ¢    _____ ¢    _____ ¢</p>	<p>_____ ¢</p>




Name: \_\_\_\_\_

Date: \_\_\_\_\_

# Learning the TouchPoints

## Worksheet 28

**DIRECTIONS:** TouchCount the coins. Circle the correct answer.

<p><b>1</b></p>  <p>43¢</p> <p>48¢</p> <p>53¢</p>	
<p><b>2</b></p>  <p>31¢</p> <p>46¢</p> <p>36¢</p>	
<p><b>3</b></p>  <p>42¢</p> <p>30¢</p> <p>38¢</p>	